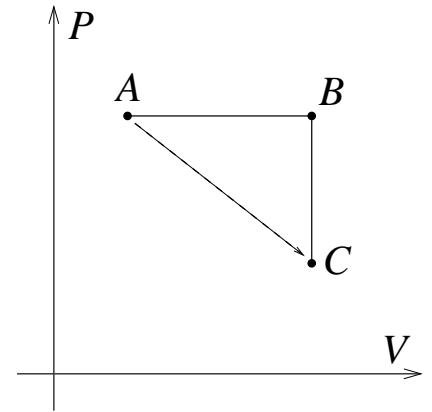


Soluzione degli esercizi della prova scritta di fisica per tecnologie alimentari del 18/12/2019

Esercizio 1

$n = 1,70$ mol moli di idrogeno biatomico sono inizialmente preparate alla pressione $P_A = 3,3 \cdot 10^5$ Pa e occupano un volume $V_A = 24,0$ litri. Questo gas si espande a *pressione costante* fino ad un volume V_B e compie un lavoro $L_{AB} = 8100$ J, come rappresentato dalla trasformazione $A \rightarrow B$ nel diagramma in figura. Assumendo di poter considerare il gas come un gas perfetto, con costante $R = 8,31$ J/(mol · K),



- a) Quanto vale la temperatura iniziale T_A del gas?

Dall'equazione di stato dei gas perfetti, con $V_A = 24,0 \cdot 10^{-3}$ m³, ricaviamo

$$T_A = \frac{P_A V_A}{nR} = 561 \text{ K} .$$

- b) Quando vale la temperatura T_B del gas?

Il modo più semplice è quello di usare l'equazione di stato dei gas perfetti, ricavando il valore del volume V_B dai dati del problema, come richiesto al punto (c), ove rimandiamo per i calcoli. Si trova così

$$T_B = \frac{P_B V_B}{nR} = 1134 \text{ K} .$$

Un modo alternativo, senza la necessità di calcolare V_B , è il seguente: a pressione costante il calore assorbito è $Q_{AB} = n c_P \Delta T_{AB}$, dove c_P è il calore molare a pressione costante, mentre la variazione di energia interna è $\Delta E_{AB} = n c_V \Delta T_{AB}$, dove c_V è il calore molare a volume costante. Per il primo principio della termodinamica

$$L_{AB} = Q_{AB} - \Delta E_{AB} = n(c_P - c_V)\Delta T_{AB} = nR \Delta T_{AB}$$

in quanto $c_P = c_V + R$. Si ha pertanto che

$$\Delta T_{AB} = T_B - T_A = \frac{L_{AB}}{nR} = 573 \text{ K} \quad \implies \quad T_B = T_A + \Delta T_{AB} = 1134 \text{ K} ,$$

- c) Quanto vale il volume V_B del gas?

Il lavoro compiuto dal gas nell'isobara $A \rightarrow B$ vale $L_{AB} = P_A(V_B - V_A)$, quindi la variazione di volume è $\Delta V_{AB} = V_B - V_A = L_{AB}/P_A = 0,0245$ m³ ed infine $V_B = V_A + (V_B - V_A) = 0,0485$ m³ = 48,5 litri.

d) Di quanto è variata l'energia interna nella trasformazione $A \rightarrow B$?

Il gas è biatomico, quindi $c_V = \frac{5}{2}R$ da cui $\Delta E_{AB} = nc_V \Delta T_{AB} = 20250$ J.

e) Quanto calore ha assorbito il gas nella trasformazione $A \rightarrow B$?

$Q_{AB} = \Delta E_{AB} + L_{AB} = 28350$ J.

f) Il gas viene successivamente raffreddato *a volume costante* mettendolo a contatto per breve tempo con una sorgente a temperatura $T_S = -100^\circ\text{C}$. La variazione di energia interna del gas è $\Delta E_{BC} = -5900$ J. Quanto calore ha assorbito il gas in questa trasformazione $B \rightarrow C$?

La trasformazione è a volume costante, quindi il sistema non fa lavoro: $L_{BC} = 0$, pertanto $Q_{BC} = \Delta E_{BC} = -5900$ J. Il dato di -100°C è superfluo.

g) Se il gas fosse stato espanso dallo stato A allo stato C attraverso una trasformazione reversibile come indicato dalla linea retta AC tratteggiata nel diagramma PV , quanto calore sarebbe stato necessario fornire al gas? (Suggerimento: ricordare l'interpretazione grafica del lavoro ...)

La trasformazione AC non è una delle trasformazioni tipiche che abbiamo incontrato. L'unico modo per calcolare il calore Q_{AC} è sfruttare il primo principio della termodinamica, calcolando ΔE_{AC} e L_{AC} . Possiamo calcolare ΔE_{AC} dalle temperature negli stati A e C . T_A è nota. T_C si calcola dalla variazione di energia interna nella trasformazione BC :

$$\Delta E_{BC} = nc_V \Delta T_{BC} \implies \Delta T_{BC} = \frac{\Delta E_{BC}}{nc_V} = -167 \text{ K} \implies T_C = T_B + \Delta T_{BC} = 967 \text{ K}.$$

Troviamo così $\Delta E_{AC} = nc_V(T_C - T_A) = 14300$ J.

Calcoliamo ora L_{AC} . Nel diagramma $P - V$ l'area sottesa dal grafico di una trasformazione reversibile corrisponde al lavoro compiuto dal sistema. Nel nostro caso la superficie compresa tra l'asse V ed il segmento AC è un trapezio rettangolo con le basi parallele all'asse P , in particolare la base maggiore è lunga P_A , la base minore è lunga P_C e l'altezza misura $V_C - V_A = V_B - V_A$. Bisogna quindi trovare P_C . Conosciamo $V_C = V_B$ e T_C , dall'equazione di stato ricaviamo $P_C = nRT_C/V_C = 2,81 \cdot 10^5$ Pa ed infine otteniamo $L_{AC} = (P_A + P_C)(V_C - V_A)/2 = 7500$ J.

Dal primo principio determiniamo infine $Q_{AC} = \Delta E_{AC} + L_{AC} = 21800$ J. Vediamo che Q_{AC} è diverso da $Q_{AB} + Q_{BC}$. Infatti il calore non è una variabile di stato, cioè il calore assorbito dal sistema tra gli stati A e C dipende da quale trasformazione si compie.

Esercizio 2

Una pompa di calore deve mantenere una stanza alla temperatura $T_1 = 20,0^\circ\text{C}$ assorbendo energia elettrica e scambiando calore con il sottosuolo che ha una temperatura costante $T_2 = 10,0^\circ\text{C}$.

a) Quanto vale il massimo coefficiente di resa teorico per una pompa di calore ideale che lavori tra queste due temperature?

*Il coefficiente di resa C_R esprime il rapporto tra beneficio e costo. In una pompa di calore, il beneficio è il **calore Q_1 rilasciato nella stanza**, mentre il costo è il lavoro L compiuto dal motore della pompa, svolto per esempio assorbendo energia elettrica prelevata dall'impianto*

elettrico. Per il primo principio, che esprime la conservazione dell'energia, si ha $Q_1 = L + Q_2$, dove Q_2 è il calore rilasciato dal sottosuolo (e prelevato dalla pompa). Per una macchina ideale vale

$$\begin{aligned} \frac{Q_1}{T_1} &= \frac{Q_2}{T_2} \implies L = Q_1 - Q_2 = Q_1 \left(1 - \frac{T_2}{T_1}\right) = \frac{T_1 - T_2}{T_1} \\ \implies C_R &= \frac{Q_1}{L} = \frac{T_1}{T_1 - T_2} = \frac{293 \text{ K}}{10 \text{ K}} = 29,3. \end{aligned}$$

Questo vuol dire che per ogni Joule di energia elettrica prelevata e spesa in lavoro meccanico, la pompa rilascerebbe nella stanza 29,3 J di calore (gli altri 28,3 J li prende dal sottosuolo).

- b) Supponendo che la pompa di calore abbia un coefficiente di resa pari al 45% di una macchina termica reversibile, quanta potenza elettrica deve assorbire per fornire alla stanza $Q = 8100 \text{ kJ}$ all'ora?

Questa pompa di calore reale ha una resa pari al 45% della pompa ideale. Questo significa che per ogni Joule di lavoro meccanico, invece di 29,3 J rilascerà nella stanza solamente $29,3 \cdot \frac{45}{100} = 29,3 \cdot 0,45 = 13,2 \text{ J}$. In altre parole, il coefficiente di resa reale vale $C_R^{\text{reale}} = C_R \cdot 0,45 = 13,2\%$. Se nel tempo $\Delta t = 1 \text{ h} = 3600 \text{ s}$ nella stanza vengono rilasciati 8100 kJ, in quell'ora la macchina compie un lavoro meccanico L tale che

$$C_R^{\text{reale}} = \frac{Q_1}{L} \implies L = \frac{Q_1}{C_R^{\text{reale}}} = 614 \text{ kJ}$$

e quindi la potenza assorbita (per esempio dall'impianto elettrico) vale $p = L/\Delta t = 171 \text{ W}$.

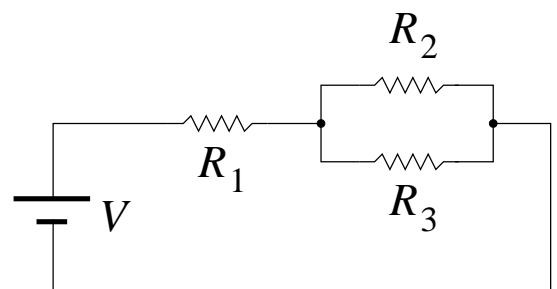
- c) Se la stanza è esposta alla temperatura esterna $T_3 = -5,0 \text{ }^\circ\text{C}$ su una superficie di area $A = 50,0 \text{ m}^2$ ed è circondata da uno strato di materiale isolante di spessore $d = 6,00 \text{ cm}$, quanto vale il coefficiente di conducibilità termica di tale materiale?

La temperatura della stanza è costante, quindi la potenza (l'energia per unità di tempo $p_1 = Q_1/\Delta t = 2250 \text{ W}$) che la stanza riceve dalla pompa è uguale alla potenza p dissipata dalla stanza verso l'ambiente esterno a temperatura T_3 attraverso la sua superficie. Dalla formula della conducibilità abbiamo

$$p = \rho \frac{A \Delta T}{d} \implies \rho = \frac{p_1 d}{A (T_1 - T_3)} = 0,108 \text{ W}/(\text{m} \cdot \text{K}).$$

Esercizio 3

Un circuito elettrico è formato da un generatore di tensione, che produce una differenza di potenziale $V = 55 \text{ V}$, e da tre resistenze collegate come in figura. I valori delle resistenze sono $R_1 = 66 \text{ } \Omega$, $R_2 = 94 \text{ } \Omega$ e $R_3 = 120 \text{ } \Omega$.



a) Quanta corrente scorre attraverso ciascuna resistenza?

Le resistenze R_2 ed R_3 sono collegate in parallelo, pertanto nel circuito si comportano come un'unica resistenza di valore

$$R_{23} = \frac{1}{\frac{1}{R_2} + \frac{1}{R_3}} = \frac{R_2 R_3}{R_2 + R_3} = 52,7 \, \Omega .$$

A questo punto il circuito si comporta come se avesse due resistenze in serie: R_1 ed R_{23} (che formano un partitore di tensione) la cui resistenza equivalente è $R = R_1 + R_{23} = 118,7 \, \Omega$. Quindi la corrente che esce dal generatore vale $I = V/R = 0,463 \, \text{A}$ ed è anche uguale alla corrente che scorre in R_1 : $I_1 = I = 0,463 \, \text{A}$. Questa corrente si separa in due correnti I_2 ed I_3 che scorrono rispettivamente attraverso R_2 ed R_3 , collegate in parallelo, quindi $V_2 = V_3$. Si ha quindi, per la prima legge di Kirchhoff e la legge di Ohm, il sistema

$$\begin{cases} I_2 + I_3 = I \\ V_2 = R_2 I_2 \\ V_2 = R_3 I_3 \end{cases} \quad \text{che ha come soluzione} \quad \begin{cases} I_2 = I \frac{R_3}{R_2 + R_3} = 0,260 \, \text{A} \\ I_3 = I \frac{R_2}{R_2 + R_3} = 0,203 \, \text{A} \\ V_2 = V_3 = 24,4 \, \text{V} . \end{cases}$$

b) Qual è la resistenza sottoposta alla maggior differenza di potenziale?

Calcoliamo le tensioni ai capi delle resistenze: dal precedente calcolo abbiamo che $V_1 = I_1 R_1 = 30,6 \, \text{V}$. Per differenza ricaviamo $V_2 = V - V_1 = 24,4 \, \text{V}$, ricavata anche nel precedente punto (a). Inoltre $V_3 = V_2$. Quindi la resistenza sottoposta alla maggior differenza di potenziale è R_1 .

c) Quanta potenza viene dissipata da ciascuna resistenza per effetto Joule?

$$p_1 = V_1 I_1 = 14,2 \, \text{W}, \quad p_2 = V_2 I_2 = 6,3 \, \text{W}, \quad p_3 = V_3 I_3 = 5,0 \, \text{W} .$$

d) Quanta energia viene erogata dal generatore in un minuto?

La potenza erogata dal generatore è uguale alla somma delle potenze dissipate dalle resistenze nel circuito: $p = p_1 + p_2 + p_3 = 25,5 \, \text{W}$. Equivalentemente, $p = V I = 25,5 \, \text{W}$. In un minuto ($\Delta t = 60 \, \text{s}$), il generatore eroga un'energia pari a $E = p \Delta t = 1530 \, \text{J}$.

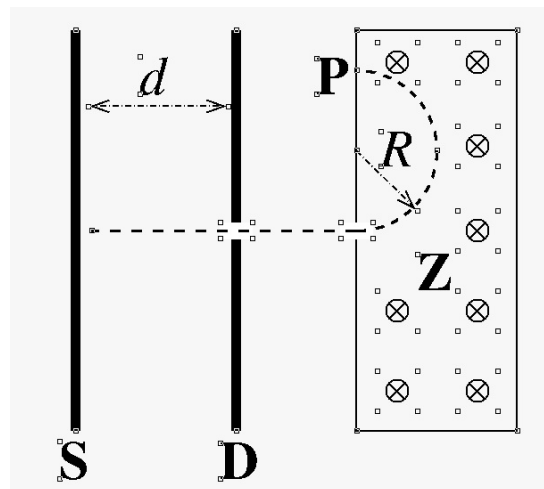
e) La resistenza R_1 è costituita da un filo di nichel (di resistività $\rho = 7,0 \cdot 10^{-8} \, \Omega \cdot \text{m}$) lungo $l = 5,6 \, \text{m}$. Quanto vale la sezione del filo? (Nota: per rispondere a questa domanda non è necessario avere risposto alle altre.)

Indicando con A la sezione del filo, cioè l'area della sua sezione, abbiamo

$$R = \rho \frac{l}{A} \quad \Longrightarrow \quad A = \frac{\rho l}{R} = 5,94 \cdot 10^{-9} \, \text{m}^2 = 5,94 \cdot 10^{-3} \, \text{mm}^2 .$$

Esercizio 4

Un dispositivo è in grado di accelerare ioni di sodio K^+ (di massa $m = 3,84 \cdot 10^{-26}$ kg) mediante il campo elettrico generato da un condensatore a facce piane e parallele. Gli ioni di sodio partono praticamente da fermi in prossimità dell'armatura di sinistra S, sono soggetti ad una differenza di potenziale $V = 2500$ V ed escono da un foro praticato nell'armatura di destra D, come mostrato in figura. La distanza tra le armature è $d = 9,5$ mm.



- a) Determinare quale delle due armature va caricata positivamente e quanto vale il campo elettrico tra le armature del condensatore.

Poiché lo ione è positivo e deve essere accelerato verso destra, la forza (e quindi il campo elettrico) deve essere orientato verso destra. Pertanto l'armatura da caricare positivamente è quella a sinistra. Il campo elettrico all'interno di un condensatore a facce piane e parallele è uniforme, ed il suo modulo vale $E = V/d = 2,63 \cdot 10^5$ V/m. Come già detto, è diretto verso destra.

- b) Qual è la velocità di ogni ione quando esce da tale dispositivo?

Lo ione è accelerato dalla forza del campo elettrico, infatti la sua carica è positiva e vale $q = 1,60 \cdot 10^{-19}$ C, perché l'atomo neutro ha perso uno dei suoi elettroni. Il lavoro svolto dal campo elettrico sullo ione che si muove dall'armatura S all'armatura D è dato da $L = qV = 4,00 \cdot 10^{-16}$ J, e, per la conservazione dell'energia, è uguale all'energia cinetica acquistata dallo ione:

$$K = \frac{1}{2}mv^2 = qV \quad \Longrightarrow \quad v = \sqrt{\frac{2qV}{m}} = 1,44 \cdot 10^5 \text{ m/s}.$$

- c) Sapendo che ciascuna armatura ha un'area $A = 45 \text{ cm}^2$, determinare la capacità del condensatore.

Tra le armature del condensatore c'è presumibilmente aria oppure il vuoto. Quindi la costante dielettrica ϵ è pari a quella del vuoto ϵ_0 e si ha

$$C = \epsilon_0 \frac{A}{d} = 4,19 \cdot 10^{-12} \text{ F} = 4,19 \text{ pF}.$$

Successivamente, gli ioni così accelerati entrano in una zona Z in cui è presente un campo magnetico uniforme e costante, di modulo $B = 0,58$ T e diretto perpendicolarmente alla velocità degli ioni, in modo tale da costringerli a compiere una traiettoria circolare, come indicato in figura.

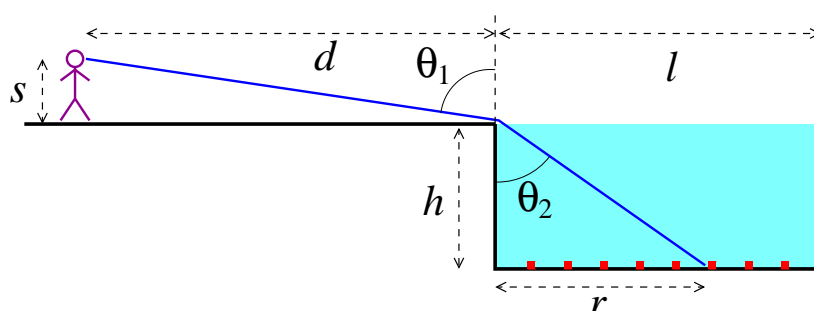
- e) Quanto vale il raggio di curvatura R della traiettoria degli ioni nella regione con il campo magnetico?

[La carica dell'elettrone $e = 1,60 \cdot 10^{-19}$ C; la costante dielettrica del vuoto $\epsilon_0 = 8,85 \cdot 10^{-12}$ F/m]
 La forza di Lorentz magnetica è perpendicolare alla velocità, quindi il moto dell'elettrone è un moto circolare uniforme, in cui la forza centripeta è data proprio dalla forza di Lorentz:

$$m \frac{v^2}{R} = qvB \quad \Longrightarrow \quad R = \frac{mv}{qB} = 5,97 \text{ cm} .$$

Esercizio 5

Una bambina guarda una piscina piena d'acqua la cui superficie è perfettamente piatta e a filo con il bordo. La piscina è lunga $l = 18,0$ m e profonda $h = 1,75$ m. La distanza tra la bambina e il bordo della piscina vale $d = 14,5$ m e gli occhi della bambina si trovano ad una distanza $s = 1,20$ m dal suolo, come in figura.



- a) Determinare l'inclinazione (rispetto alla verticale) del raggio di luce che, dal bordo della piscina, incide sugli occhi della bambina.

L'angolo richiesto, che indico con θ_1 , è tale che

$$\tan \theta_1 = \frac{d}{s} = 12,0833 \quad \Longrightarrow \quad \theta_1 = \arctan \frac{d}{s} = 1,48823 \text{ rad} = 85,269^\circ .$$

- b) Determinare l'inclinazione (rispetto alla verticale) dello stesso raggio di luce partito dall'interno della piscina, sapendo che l'indice di rifrazione dell'acqua vale $n = 1,33$.

Indico con θ_2 l'angolo richiesto, con $n_1 \simeq 1$ l'indice di rifrazione dell'aria e con $n_2 = 1,33$ quello dell'acqua. Dalla legge di Snell abbiamo che

$$\begin{aligned} n_1 \sin \theta_1 &= n_2 \sin \theta_2 \quad \Longrightarrow \quad \sin \theta_2 = \frac{n_1}{n_2} \sin \theta_1 = 0,74932 \\ \Longrightarrow \quad \theta_2 &= \arcsin(0,74932) = 0,84703 \text{ rad} = 48,53^\circ . \end{aligned}$$

- c) Sul fondo della piscina è sistemata una fila di piccole lampadine accese e distanti 50,0 cm l'una dall'altra, come in figura. Quante lampadine riesce a vedere la bambina?

Il raggio di luce che raggiunge l'occhio della bambina passando per il bordo della piscina, che è quello rappresentato in figura, proviene dal fondo della piscina dai punti che hanno una distanza $r = h \tan \theta_2 = 1,98$ m dal bordo sinistro. Quindi la bambina riesce a vedere $h - r = 16,02$ m del fondo, e quindi un numero di luci pari a $n = 16,02/0,50 = 32,04$. Ovviamente le luci sono in numero intero, quindi ne vedrà 32, o 31 se mancano quelle ai bordi (come in figura).