

Chapter 12

Funzioni esponenziale e logaritmo

12.1 Funzione esponenziale

12.1.1 Introduzione.

Definizione La funzione

$$x \rightarrow a^x \quad (a > 0)$$

si chiama **funzione esponenziale**, perchè la variabile figura a esponente.

Essa è una delle funzioni più importanti della matematica: un esame accurato di molte grandezze fisiche, chimiche, economiche, rivela il loro variare nel tempo secondo leggi rappresentate da funzioni esponenziali, nelle quali figurano cioè espressioni contenenti a^x per diversi valori di a .

Osservazione La definizione di potenza a^β soddisfa le proprietà formali delle potenze.

Nel caso di un esponente $\beta \leq 0$, si ricorda che per definizione si ha:

$$a^0 = 1 \quad \text{e} \quad a^{-\beta} = \left(\frac{1}{a}\right)^\beta$$

12.1.2 Studio della funzione.

Sia a un numero positivo e diverso da 1; tracciamo nel piano cartesiano il grafico della funzione esponenziale la cui equazione è:

$$y = a^x$$

riportando sull'asse delle ascisse i valori dell'esponente x e sull'asse delle ordinate i corrispondenti valori di a^x . Il grafico sarà costituito dall'insieme dei punti di coordinate

$$(x, a^x)$$

Distinguiamo due casi:

1°) $0 < a < 1$

2°) $a > 1$.

Primo caso. $0 < a < 1$.

Per fissare le idee sia $a = \frac{1}{2}$; disegniamo perciò il grafico della curva di equazione

$$y = \left(\frac{1}{2}\right)^x$$

Per far ciò compiliamo una tabella, dando all'esponente x alcuni semplici valori e determiniamo i corrispondenti valori di $y = \left(\frac{1}{2}\right)^x$.

x	-4	-3	-2	-1	0	1	2	3	4
$y = \left(\frac{1}{2}\right)^x$	16	8	4	2	1	$\frac{1}{2}$	$\frac{1}{4}$	$\frac{1}{8}$	$\frac{1}{16}$

Riportiamo sul piano cartesiano xOy i punti di coordinate:

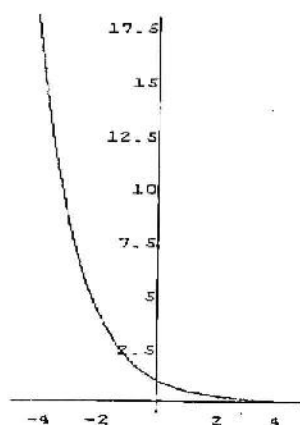
$$(-4, 16), (-3, 8), \dots$$

ottenendo il grafico di figura 12.1.

Osserviamo che tale grafico è contenuto nel semipiano $y > 0$, poichè:

$$\left(\frac{1}{2}\right)^x > 0 \quad \forall x \in \mathfrak{R}$$

inoltre, al crescere dell'esponente x , i valori corrispondenti di $\left(\frac{1}{2}\right)^x$ decrescono, avvicinandosi al valore zero. Esprimiamo questo fatto dicendo che la funzione $y = \left(\frac{1}{2}\right)^x$ è decrescente e tende a zero.

Figure 12.1: $y = \left(\frac{1}{2}\right)^x$

Per esponenti x negativi: $-10, -32, \dots$, i valori di $\left(\frac{1}{2}\right)^x$ diventano sempre più grandi:

$$\left(\frac{1}{2}\right)^{-10} = 2^{10}, \quad \left(\frac{1}{2}\right)^{-32} = 2^{32}, \dots$$

Il grafico della curva generica

$$y = a^x \quad (\text{con } 0 < a < 1)$$

ha un andamento analogo a quello della curva $y = \left(\frac{1}{2}\right)^x$ della figura 12.1.

Secondo caso. $a > 1$.

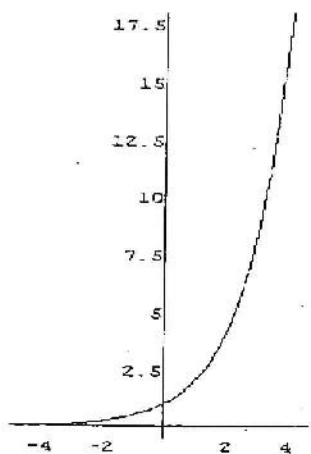
Per fissare le idee sia $a = 2$; disegniamo perciò il grafico della curva

$$y = 2^x$$

costruendo una tabella analogamente a quanto si è fatto nel caso precedente e riportando punti $\left(-4, \frac{1}{16}\right), \left(-3, \frac{1}{8}\right), \dots$ sul piano cartesiano xOy .

x	-4	-3	-2	-1	0	1	2	3	4
$y = 2^x$	$\frac{1}{16}$	$\frac{1}{8}$	$\frac{1}{4}$	$\frac{1}{2}$	1	2	4	8	16

Il grafico della curva $y = 2^x$ ha l'andamento rappresentato dalla figura 12.2.

Figure 12.2: $y = 2^x$

Osserviamo che anche tale grafico è posto nel semipiano delle ordinate positive perchè:

$$2^x > 0 \quad \forall x \in \mathbb{R}$$

inoltre al crescere dell' esponente x , i valori corrispondenti di 2^x crescono; questo fatto si esprime dicendo che la funzione $y = 2^x$ è crescente. Per esponenti x negativi: $-10, -20, \dots$ i corrispondenti valori di 2^x decrescono, avvicinandosi al valore zero:

$$2^{-10} = \frac{1}{2^{10}}, \quad 2^{-20} = \frac{1}{2^{20}}, \dots$$

Il grafico della curva generica

$$y = a^x \quad (\text{con } a > 1)$$

ha un andamento analogo a quello della curva $y = 2^x$ rappresentato nella figura 12.2.

12.1.3 La curva $y = e^x$.

Rientra nel secondo caso ($a > 1$) la curva esponenziale

$$y = e^x$$

dove il valore di e approssimato alla settima cifra decimale, è

$$2,7182818.$$

Essendo $2 < e < 3$, il grafico della curva $y = e^x$ è compreso fra quello della $y = 2^x$ e quello della $y = 3^x$.

Si costruisce, al solito modo, la tabella per ottenere il grafico nel piano xOy .

x	-3	-2	-1	0	1	2	3	4
$y = e^x$	0,049	0,135	0,376	1	2,718	7,389	20,085	54,598

si ottiene il grafico della figura 12.3

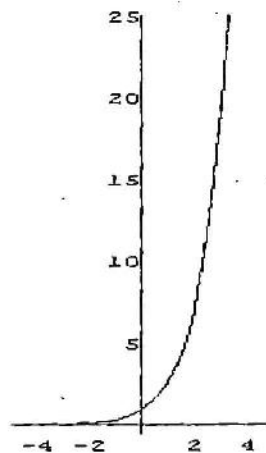


Figure 12.3: $y = e^x$

12.1.4 Equazioni esponenziali.

Definizione Un'equazione si dice **esponenziale** se l'incognita compare a esponente.

Esempio Sono esponenziali le equazioni:

$$3^{x-2} = 5, \quad 5^{x-3} = 3^{4x-2}, \quad 7^{\sqrt{x^2-1}} = 9.$$

L'equazione

$$a^x = b \quad (\text{con } a > 0) \quad (12.1)$$

si dice **esponenziale elementare**; risolverla significa determinare il valore da dare all'esponente x affinché la potenza a^x sia uguale a b .

Essendo $a > 0$, per ogni x reale risulta

$$a^x > 0$$

quindi affinché l'equazione (12.1) ammetta soluzione, occorre che anche b sia un numero positivo. Sussiste il seguente

Teorema fondamentale *Se a è positivo e diverso da 1 e b è positivo, esiste ed è unica la soluzione dell'equazione*

$$a^x = b$$

La condizione $a \neq 1$ si giustifica tenendo conto che, per $a = 1$, $1^x = 1$ per ogni $x \in \mathbb{R}$; quindi se fosse anche $b = 1$ l'equazione avrebbe infinite soluzioni, mentre, se fosse $b \neq 1$, l'equazione sarebbe impossibile.

La soluzione dell'equazione $a^x = b$ viene indicata con

$$x = \log_a b$$

che si legge *logaritmo in base a di b* .

Definizione Per definizione il **logaritmo** di un numero b in una base a è quell'esponente da dare ad a per ottenere b .

In simboli

$$a^{\log_a b} = b$$

Per esempio l'equazione

$$3^x = \frac{1}{9}$$

ha come soluzione -2 e quindi

$$-2 = \log_3 \left(\frac{1}{9} \right).$$

Non sempre la soluzione dell'equazione esponenziale è direttamente calcolabile: per esempio la soluzione dell'equazione:

$$3^x = 5$$

che si scrive

$$x = \log_3 5$$

può calcolarsi solo con l'uso di strumenti quali le tavole di logaritmi o una calcolatrice.

Osservazione Le condizioni $a > 0$ e diverso da 1 e $b > 0$ assicurano l'esistenza e l'unicità dell'equazione $a^x = b$.

Vediamo ora alcuni esempi di risoluzione dell'equazione esponenziale.

Esempio Risolvere l'equazione

$$2^{x-1} = \frac{1}{4}$$

Poichè $\frac{1}{4} = 2^{-2}$ l'equazione si può scrivere nella forma

$$2^{x-1} = 2^{-2}$$

da cui, poichè le basi sono uguali, si deduce che devono essere uguali gli esponenti:

$$x - 1 = -2$$

quindi la soluzione cercata è

$$x = -1$$

Esempio Risolvere l'equazione

$$3^{x^2-x} = 9^{x+2}$$

Poichè $9 = 3^2$ si ha:

$$3^{x^2-x} = 3^{2(x+2)}$$

e quindi si ottiene , uguagliando gli esponenti dei due membri

$$x^2 - x = 2x + 4$$

cioè:

$$x^2 - 3x - 4 = 0$$

equazione che ammette le soluzioni

$$x_1 = -1, x_2 = 4$$

Esempio Risolvere l' equazione

$$2^{2x} - 9 \cdot 2^x + 20 = 0$$

Ponendo $2^x = t$ si ha:

$$t^2 - 9t + 20 = 0$$

le cui soluzioni sono:

$$t_1 = 4, t_2 = 5$$

si ottiene allora:

$$2^x = 4 \text{ da cui } x = 2$$

e

$$2^x = 5, \text{ da cui } x = \log_2 5$$

12.1.5 Disequazioni esponenziali.

Occupiamoci ora delle disequazioni del tipo

$$a^x \geq b \quad (\text{con } a > 0)$$

Poichè se a è positivo, a^x è positivo per ogni x , si ha che, se $b \leq 0$, la disequazione

$$a^x > b$$

è soddisfatta per ogni x , mentre la disequazione

$$a^x \leq b$$

non è mai soddisfatta.

Sia ora $b > 0$; distinguiamo due casi:

1°. $0 < a < 1$

2°. $a > 1$

Primo caso. $0 < a < 1$

Dal grafico 12.4 si può ricavare che

$$a^x > b, \quad \text{con } 0 < a < 1 \quad \text{è verificata per} \quad x < \log_a b$$

e analogamente

$$a^x < b, \quad \text{con } 0 < a < 1 \quad \text{è verificata per} \quad x > \log_a b$$

Secondo caso. $a > 1$.

Il grafico della funzione esponenziale con $a > 1$ risulta crescente, perciò dal grafico relativo, figura 12.5 si ricava:

$$a^x > b, \quad \text{con } a > 1 \quad \text{è verificata per} \quad x > \log_a b$$

e analogamente

$$a^x < b, \quad \text{con } a > 1 \quad \text{è verificata per} \quad x < \log_a b$$

Esempio Risolvere la disequazione

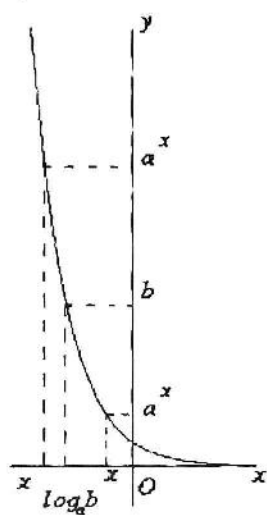


Figure 1.4: $a^x \geq b, 0 < a < 1$

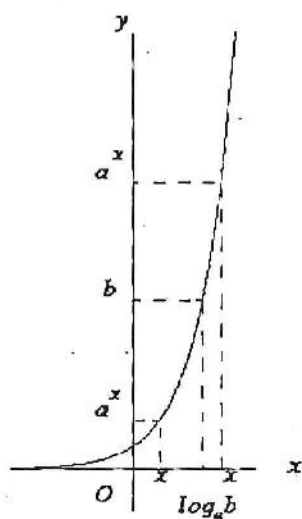


Figure 1.5: $a^x \geq b, \text{ con } a > 1$

$$\left(\frac{1}{2}\right)^{x+9} > 4$$

si può scrivere

$$2^{-x-9} > 4$$

quindi si ha

$$-x - 9 > 2 \quad \text{e quindi} \quad x < -11$$

In conclusione

$$x \in]-\infty, -11[$$

Esempio Risolvere la disequazione

$$\left(\frac{1}{3}\right)^{2x} - 9 \geq 0$$

Ponendo $\left(\frac{1}{3}\right)^x = t$ si ottiene

$$t^2 - 9 \geq 0$$

che è verificata per $t \leq -3$ e per $t \geq 3$, ossia per

$$\left(\frac{1}{3}\right)^x \leq -3 \quad \text{e} \quad \left(\frac{1}{3}\right)^x \geq 3$$

La prima delle due disequazioni non ha soluzioni, mentre la seconda si può scrivere

$$3^{-x} \geq 3^1$$

da cui

$$-x \geq 1$$

ossia

$$x \in]-\infty, -1]$$

12.2 I logaritmi

Si è detto che l'equazione esponenziale

$$a^x = b$$

con $a > 0$ e $a \neq 1$, ammette una e una sola soluzione per ogni $b > 0$ e si è convenuto di indicare tale soluzione con il simbolo

$$x = \log_a b$$

Possiamo allora dedurre le seguenti

12.2.1 Conseguenze fondamentali.

Sono valide le seguenti proprietà:

- la funzione esponenziale $x \rightarrow a^x$, con $a > 0$ e $a \neq 1$, è dotata di inversa,
- l'inversa della funzione esponenziale, $b \rightarrow \log_a b$, è definita per tutti i numeri positivi;
- la funzione $x \rightarrow \log_a x$ gode delle proprietà formali, analoghe a quelle della funzione esponenziale

12.2.2 Proprietà formali della funzione logaritmo.

Si hanno le seguenti proprietà formali:

$$\boxed{\log_a 1 = 0, \log_a a = 1} \quad (12.2)$$

Infatti poichè

$$a^0 = 1 \quad \text{e} \quad a^1 = a$$

si ottiene che

$$\log_a 1 = 0 \quad \text{e} \quad \log_a a = 1$$

Se $b_1 > 0$ e $b_2 > 0$, allora:

$$\boxed{\log_a (b_1 \cdot b_2) = \log_a b_1 + \log_a b_2} \quad (12.3)$$

Se $b_1 > 0$ e $b_2 > 0$, allora:

$$\log_a \frac{b_1}{b_2} = \log_a b_1 - \log_a b_2 \quad (12.4)$$

Se $b > 0$ allora

$$\log_a b^k = k \log_a b \quad (12.5)$$

e infine

$$\log_c b = \frac{\log_a b}{\log_a c} \quad (12.6)$$

che è detta formula del *cambiamento di base*.

Scelti per esempio $a = 10$ e $c = 2$ dalla (12.6) si ha l'uguaglianza

$$\log_2 b = \frac{\log_{10} b}{\log_{10} 2}$$

la quale indica che per conoscere il logaritmo di un numero in base 2, basta conoscere il logaritmo in base 10 e il valore del $\log_{10} 2$. Le tavole di logaritmi tradizionali sono relative ai logaritmi in base $a = 10$; tale scelta è vantaggiosa perchè 10 è la base del sistema di numerazione usuale.

La parte intera, detta *caratteristica*, del logaritmo in base 10 di un numero x è l'intero k tale che

$$10^k \leq x < 10^{k+1}$$

che corrisponde al numero delle cifre che esprimono la parte intera di x meno uno.

I logaritmi in base 10 prendono il nome di *logaritmi decimali*; accanto a questi hanno molta importanza i logaritmi in base "e", detti *logaritmi naturali* o *neperiani*.

Utilizzeremo i simboli

$$\log_{10} x \quad \text{e} \quad \log x$$

per indicare rispettivamente il logaritmo in base dieci e il logaritmo in base "e" di x . Nelle calcolatrici tascabili i simboli sono rispettivamente

$$\log \quad \text{e} \quad \ln$$

12.2.3 La curva logaritmica.

Tracciamo nel piano cartesiano il grafico della funzione

$$y = \log_a x \quad (a \in \mathbb{R}_0^+ - \{1\}),$$

cioè riportiamo sull'asse delle ascisse i valori dell'argomento x e sull'asse delle ordinate i corrispondenti valori di $\log_a x$. Il grafico sarà costituito dall'insieme dei punti di coordinate

$$(x, \log_a x).$$

Distinguiamo due casi:

1° caso. $0 < a < 1$

2° caso $a > 1$.

Primo caso. $0 < a < 1$

Per fissare le idee sia $a = \frac{1}{2}$; disegniamo perciò il grafico della curva

$$y = \log_{\frac{1}{2}} x$$

Costruiamo una tabella, dando all'argomento x alcuni valori semplici e troviamo i corrispettivi valori di $\log_{\frac{1}{2}} x$:

x	$\frac{1}{8}$	$\frac{1}{4}$	$\frac{1}{2}$	1	2	4	8
$y = \log_{\frac{1}{2}} x$	3	2	1	0	-1	-2	-3

Riportiamo sul piano cartesiano i punti di coordinate $(\frac{1}{8}, 3)$, $(\frac{1}{4}, 2)$, Il grafico della curva $y = \log_{\frac{1}{2}} x$ ha l'andamento rappresentato in figura 12.6.

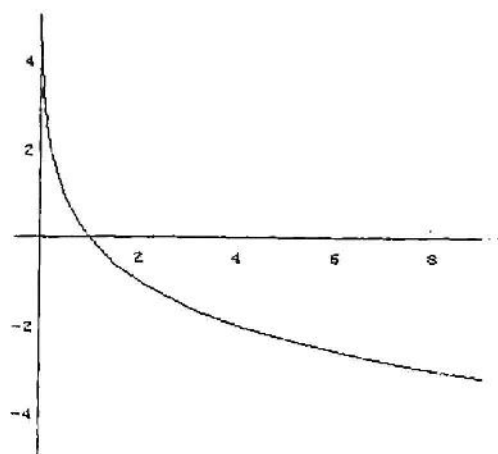
Osserviamo tale grafico: esso è posto nel semipiano $x > 0$, in quanto $x = (\frac{1}{2})^y > 0$.

Inoltre, al crescere dell'argomento x i corrispondenti valori di $\log_{\frac{1}{2}} x$ decrescono. Questo fatto si esprime dicendo che la funzione $y = \log_{\frac{1}{2}} x$ è decrescente.

Il grafico della funzione

$$y = \log_a x \quad (0 < a < 1)$$

ha un andamento analogo a quello della funzione $y = \log_{\frac{1}{2}} x$ della figura 12.6.

Figure 12.6: $y = \log_{\frac{1}{2}} x$

Secondo caso. $a > 1$.

Per fissare le idee sia $a = 2$. Disegniamo perciò il grafico della funzione

$$y = \log_2 x$$

costruendo una tabella analoga a quella presente nel caso 1° e riportando le coppie $(\frac{1}{8}, -3)$, $(\frac{1}{4}, -2)$, dei valori trovati come coordinate di punti nel piano cartesiano. Otteniamo la curva rappresentata della figura 12.7.

Osserviamo che il grafico di $y = \log_2 x$ è posto anch' esso nel semipiano $x > 0$ ed è crescente. Come nel caso precedente, il grafico della funzione

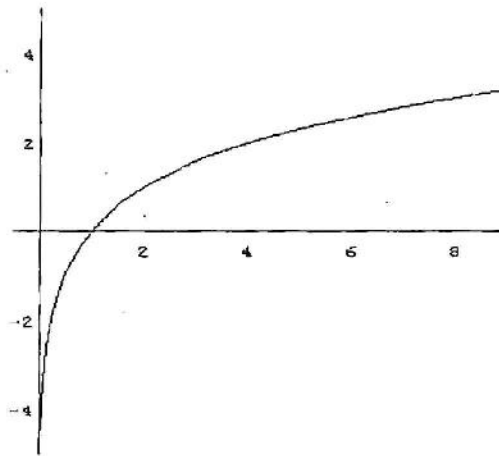
$$y = \log_a x \quad (a > 1)$$

ha un andamento analogo a quello della funzione $y = \log_2 x$ della figura 12.7.

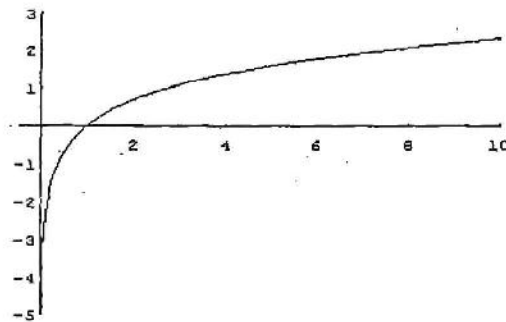
12.2.4 La curva $y = \log x$

Poichè la base è $e = 2,7182818\dots$, l' andamento è analogo a quello riportato in figura 12.7. Costruendo la tabella

x	e^{-3}	e^{-2}	e^{-1}	1	e	e^2	e^3
$y = \log x$	-3	-2	-1	0	1	2	3

Figure 12.7: $y = \log_2 x$

e riportando le coppie $(e^{-3}, -3)$, $(e^{-2}, -2)$, sul piano cartesiano si ottiene la curva in figura 12.8

Figure 12.8: $y = \log x$

12.2.5 Equazioni logaritmiche.

Definizione Un'equazione si dice **logaritmica** se l'incognita compare nell'argomento dei logaritmi.

Esempio Sono logaritmiche le equazioni

$$\log_2 x = 4, \quad \log_3 (x^2 - 4) = 1, \quad \log_{\frac{1}{2}} \frac{x-1}{x+1} = 5.$$

Definizione Si chiama equazione logaritmica elementare un'equazione della forma

$$\log_a x = b$$

essa ha, per definizione di logaritmo in base a , la soluzione

$$x = a^b$$

Esempio Risolvere l'equazione

$$\log_3 (x - 4) = 2$$

Si ha

$$x - 4 = 3^2$$

da cui si ottiene

$$x = 13$$

Esempio Risolvere l'equazione

$$\log_3 (x - 4) - \log_3 (2x - 1) = -1$$

Per l'esistenza dei due logaritmi deve essere

$$\begin{cases} x - 4 > 0 \\ 2x - 1 > 0 \end{cases}$$

Perciò le soluzioni dovranno verificare la condizione

$$x > 4$$

Per $x > 4$, applicando la proprietà espressa dalla (12.4) si ha

$$\begin{cases} \log_3 \frac{x-4}{2x-1} = -1 \\ x > 4 \end{cases}$$

da cui

$$\begin{cases} \frac{x-4}{2x-1} = 3^{-1} = \frac{1}{3} \\ x > 4 \end{cases}$$

cioè

$$\begin{cases} 3x - 12 = 2x - 1 \\ x > 4 \end{cases}$$

da cui si ricava la soluzione accettabile

$$x = 11$$

Esempio Risolvere l'equazione

$$\log_2(x-1) - \log_{\frac{1}{2}}(3-x) = -1$$

Per la positività degli argomenti deve essere

$$\begin{cases} x-1 > 0 \\ 3-x > 0 \end{cases}$$

da cui segue

$$1 < x < 3$$

Riduciamo i due logaritmi in due logaritmi aventi la stessa base: per la (12.6) si ha:

$$\log_{\frac{1}{2}}(3-x) = \frac{\log_2(3-x)}{\log_2 \frac{1}{2}} = -\log_2(3-x)$$

L'equazione si può allora scrivere

$$\log_2(x-1) + \log_2(3-x) = -1$$

e applicando la (12.3) con la condizione $1 < x < 3$ si ha:

$$\begin{cases} \log_2 [(x-1)(3-x)] = -1 \\ 1 < x < 3 \end{cases}$$

e quindi

$$\begin{cases} (x-1)(3-x) = \frac{1}{2} \\ 1 < x < 3 \end{cases}$$

da cui

$$2x^2 - 8x + 7 = 0 \quad (1 < x < 3)$$

equazione che fornisce le soluzioni entrambe accettabili

$$x_1 = 2 - \frac{\sqrt{2}}{2}, \quad x_2 = 2 + \frac{\sqrt{2}}{2}$$

Esempio Risolvere l'equazione

$$\left(\log_{\frac{1}{2}} x\right)^2 - 5 \log_{\frac{1}{2}} x + 4 = 0$$

Questa risulta un'equazione di 2° grado in $\log_{\frac{1}{2}} x$, che ha per soluzioni

$$\log_{\frac{1}{2}} x = 1, \quad \text{da cui si ricava} \quad x = \frac{1}{2}$$

e

$$\log_{\frac{1}{2}} x = 4, \quad \text{da cui si ricava} \quad x = \left(\frac{1}{2}\right)^4 = \frac{1}{16}$$

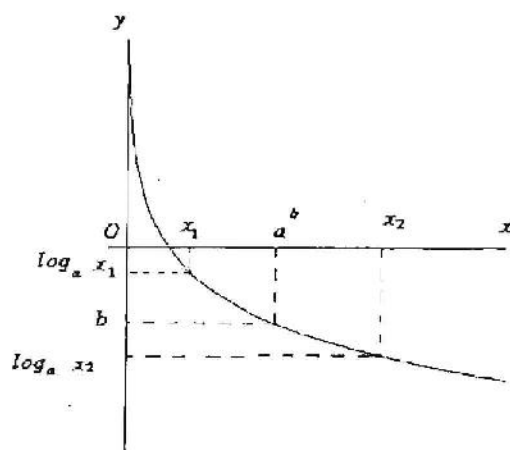
12.2.6 Disequazioni logaritmiche.

Occupiamoci ora delle disequazioni del tipo

$$\log_a x \geq b$$

Distinguiamo i due casi

1°. caso. $0 < a < 1$.

Figure 12.9: Per $0 < a < 1$.

2° caso. $a > 1$.

Primo caso. $0 < a < 1$.

Dal grafico di figura 12.9 si ricava che la disequazione

$$\log_a x > b$$

che si può scrivere

$$\log_a x > \log_a a^b$$

risulta verificata per

$$0 < x < a^b$$

mentre

$$\log_a x < b$$

è verificata per

$$x > a^b$$

Secondo caso. $a > 1$.

Dal grafico della curva

$$y = \log_a x \quad \text{con } a > 1$$

dato dalla figura 12.10 si ricava che la disequazione

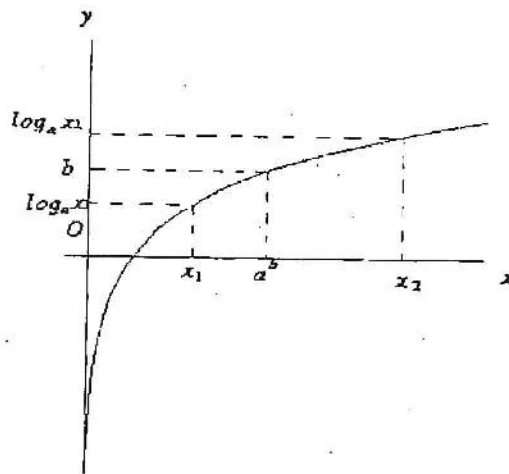


Figure 12.10: Per $a > 1$.

$$\log_a x > b$$

è verificata per

$$x > a^b$$

mentre la disequazione

$$\log_a x < b$$

è verificata per

$$0 < x < a^b$$

Esempio Risolvere la disequazione

$$\log_5 (x - 7) > 2$$

Poichè

$$2 = \log_5 5^2$$

si ha

$$\log_5 (x - 7) > \log_5 5^2$$

Quindi

$$x - 7 > 5^2$$

ossia

$$x \in]32, +\infty[$$

Esempio Risolvere la disequazione

$$\log_{\frac{1}{2}} (3x - 2) > 3$$

Poichè

$$3 = \log_{\frac{1}{2}} \left(\frac{1}{2}\right)^3$$

si ha

$$\log_{\frac{1}{2}} (3x - 2) > \log_{\frac{1}{2}} \left(\frac{1}{2}\right)^3$$

e quindi

$$0 < 3x - 2 < \left(\frac{1}{2}\right)^3 = \frac{1}{8}$$

ossia

$$2 < 3x < \frac{17}{8}$$

dā cui si ricava

$$x \in \left] \frac{2}{3}, \frac{17}{24} \right[$$

Esempio Risolvere la disequazione

$$\log_{\frac{1}{2}}(3^{2x} - 3^x + 1) > 0$$

Dal grafico 12.9 ricaviamo che il logaritmo in base $\frac{1}{2}$ è positivo se l'argomento è compreso fra 0 e 1; quindi la disequazione è soddisfatta se

$$0 < 3^{2x} - 3^x + 1 < 1$$

Posto $3^x = t$ si ricava:

$$\begin{cases} t^2 - t + 1 > 0 \\ t^2 - t < 0 \end{cases}$$

La prima disequazione è soddisfatta per ogni t , mentre la seconda per $0 < t < 1$; quindi il sistema è soddisfatto per

$$0 < t < 1$$

ossia per

$$0 < 3^x < 1$$

Poichè $3^x > 0$ per ogni x e $3^x < 1$ per $x < 0$ si ha che il sistema è soddisfatto per

$$x < 0$$

e così pure la disequazione logaritmica considerata.

12.2.7 Esercizi di riepilogo

- 1) $\frac{3^{4x-2}}{3^{x-2}} - 2 \cdot 3^{2x+1} - \frac{57}{3^{1-x}} + 84 = 0$ $[1, \log_3 7]$
- 2) $3^{3x} - 3^{2x+1} + 2 = 0$ $[0, \log_3(1 + \sqrt{3})]$
- 3) $e^{2x} + e^{\frac{7}{3}} = e^{2+x} + e^{\frac{3x+1}{3}}$ $[\frac{1}{3}, \frac{1}{2}]$
- 4) $3^{\sqrt{3+x-2x^2}} < 3^{2-x}$ $[-1, \frac{5-\sqrt{13}}{6} \cup [\frac{5+\sqrt{13}}{6}, \frac{3}{2}]]$
- 5) $2(\frac{1}{2})^x - 2^x \leq 1$ $[0, +\infty]$
- 6) $\frac{e^x + e^{\sqrt{x}+2}}{e^{2x}-e} \geq 0$ $[\frac{1}{2}, +\infty]$

$$7) 4 \left(\log_{\frac{1}{2}} x \right)^2 - 5 \log_{\frac{1}{2}} x + 1 = 0 \quad \left[\frac{1}{2}, 4, \sqrt{\frac{1}{2}} \right]$$

$$8) \log_a^3 x - \log_a^2 x = 0 \quad [1, a]$$

$$9) \log \frac{x^2-1}{x} = \log 2 \quad [1 - \sqrt{2}, 1 + \sqrt{2}]$$

$$10) \log_{\frac{1}{2}} \frac{x+1}{x-1} < \log_{\frac{1}{2}} x \quad]1, 1 + \sqrt{2}[$$

$$11) \log_2 (e^{2x} - e^x) > 1 \quad] \log 2, +\infty[$$